

Poigraj se s slovenščino

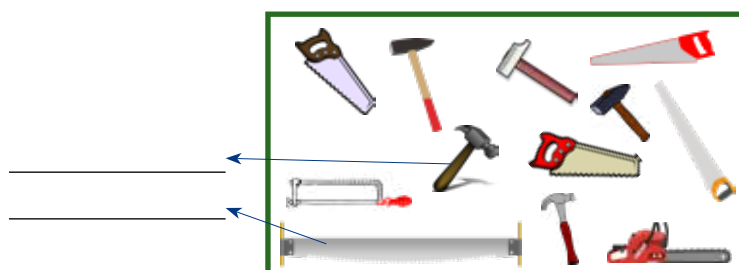
Preštej in izračunaj

Stran je pripravila Nadja Volavšek Kurasch. Rešitve najdete na spletu: www.novice.at/otroskaresitve

 Poimenuj osebe, rastline in predmete v zelenih okvirčkih. Pomagaj si z besedami v oranžnem okvirčku.

čevlji, kladivo, klovn, tulipan, maškara, žaga, športni čevlji,
žebelj, princeska, narcisa

 Preštej in izračunaj.



Koliko kladiv je na risbi?

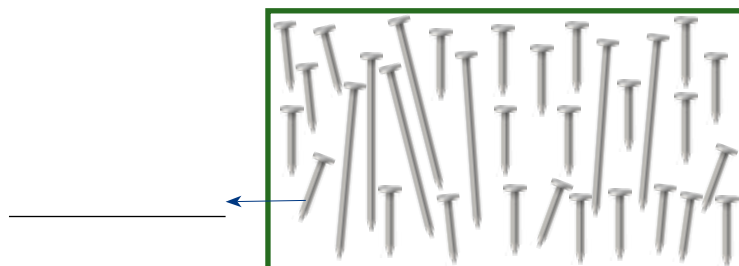
Izračunaj, koliko kosov orodja je na risbi. Napiši račun.

$$5 + \square = \square$$

Koliko žag je na risbi?

Izračunaj, koliko kosov orodja ostane, če kdo odnese vse rdeče žage. Napiši račun.

$$\square - \square = \square$$



Preštej, koliko žebeljev je na risbi.

Izračunaj, koliko žebeljev ostane, če mizar porabi vse dolge žebelje. Napiši račun.

$$\square - \square = \square$$



Koliko parov čevljev je na risbi?

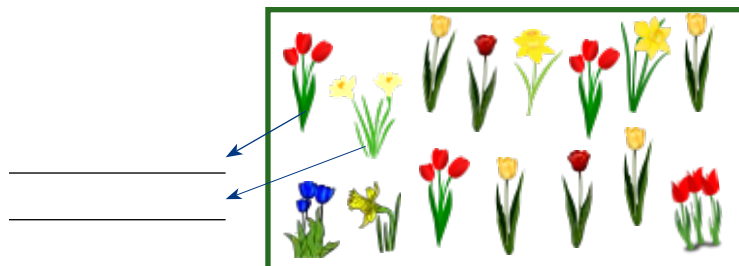
Izračunaj, koliko parov obuval je na risbi. Napiši račun.

$$\square + \square = \square$$

Preštej, koliko parov športnih čevljev je na risbi.

Izračunaj, koliko parov obuval ostane, če kdo odnese vsa rjava obuvala. Napiši račun.


$$\square - \square = \square$$



Preštej, koliko rož cveti na vrtu.

Izračunaj, koliko rož ostane na vrtu, če utrhamo tri narcise in dva tulipana. Napiši račun.

$$\square - \square = \square$$



Preštej, koliko maškar je na plesu.

Izračunaj, koliko maškar ostane na plesu, če vse tri princeske zapustijo ples. Napiši račun.

$$\square - \square = \square$$

Preštej, koliko klovnov je na plesu.